


Nombre:

Fecha:

MENOS CUARTO




Yo, Halvar, jefe de los vikingos del poblado de Flake he decidido que no subiran al barco los que no tengan, en sus relojes, las horas correctas.




RECUERDA

En el reloj analógico la aguja pequeña cerca de la hora y la grande debe señalar el 9, ya que ha recorrido 45 min.




En el reloj digital, como a la hora indicada aún le faltan 15 minutos para que sea dicha hora, debes poner en la hora un número menor y en el minutero los 45 minutos que lleva recorrido hasta ese momento.


¿3 menos cuarto?




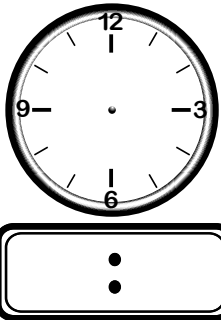
¿7 menos cuarto?




¿5 menos cuarto?



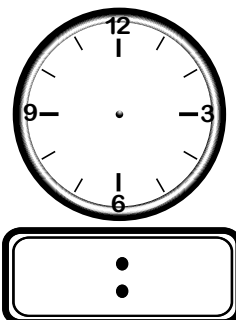

¿8 menos cuarto?



¿10 menos cuarto?



¿6 menos cuarto?



¿12 menos cuarto?

